

Namenindex (Ortsverzeichnis)













Was enthält der Namenindex ?

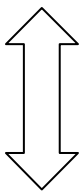
Seite 198 :

Seite 199 :


Seiten 200-238 :

Wie ist der Namenindex zu lesen ?

121 Zentralgebirge, PG	 12° 32' S 142° 41' E	72 Župeno, SI	 45° 51' N 14° 25' E
82 Zentralgraben	 54° 00' N 4° 00' E	5 Zürcher Oberland, CH	 47° 17' N 8° 49' E
167 Zentralindischer Rücken	 26° 00' S 70° 00' E	33 Zürich, CH	 47° 22' N 8° 33' E
36 Zentralmassiv, F, fr.Massif Central		23 Zürich, CH	 47° 20' N 8° 35' E
132 Zentralpazifisches Becken	 8° 00' N 175° 00' W	41 Zurich, NL	 53° 07' N 5° 23' E
		33 Zürichberg, CH	 685 E 249 N
		5 Zürichsee, CH, 406m	 47° 15' N 8° 40' E
		5 Zurzach, CH	 47° 35' N 8° E



nördlich des Äquators :
südlich des Äquators :



westlich von London :
östlich von London :

Für welche Art von Ort stehen die Zeichen hinter dem Namen ?





Namenindex (Ortsverzeichnis)

Was enthält der Namenindex ?

Seite 198 : **Erläuterungen, Aussprachehilfe**

Seite 199 : **Abkürzungen (Staaten, Sprachen), Zeichenerklärung**













Seiten 200-238 : **Namenindex (Ortsverzeichnis)**

Wie ist der Namenindex zu lesen ?

Seite im Atlas

Art des Ortes

Staat (Abkürzung)

121 Zentralgebirge, PG	 12° 32' S 142° 41' E	72 Župeno, SI	 45° 51' N 14° 25' E
82 Zentralgraben	 54° 00' N 4° 00' E	5 Zürcher Oberland, CH	 47° 17' N 8° 49' E
167 Zentralindischer Rücken	 26° 00' S 70° 00' E	33 Zürich, CH	 47° 22' N 8° 33' E
36 Zentralmassiv, F, fr.Massif Central		23 Zürich, CH	 47° 20' N 8° 35' E
132 Zentralpazifisches Becken	 8° 00' N 175° 00' W	41 Zurich, NL	 53° 07' N 5° 23' E
		33 Zürichberg, CH	 685 E 249 N
		5 Zürichsee, CH, 406m	 47° 15' N 8° 40' E
		5 Zuzach, CH	 47° 35' N 8° E

Ortsname

geografische Breite

nördlich des Äquators : **N**
südlich des Äquators : **S**

geografische Länge

westlich von London : **W**
östlich von London : **E**

Für welche Art von Ort stehen die Zeichen hinter dem Namen ?

	Staat, Provinz
	Gebiet
	Grossstadt
	Stadt
	Ortschaft
	Historische Stätte
	Fluss
	Kanal
	See
	Meer, Meeresstrasse, Golf

	Untermeerische Formen
	Insel
	Tal
	Gebirge
	Berg
	Pass
	Erdölfeld, Erdgasfeld
	Bergbau, Mine
	Kraftwerk