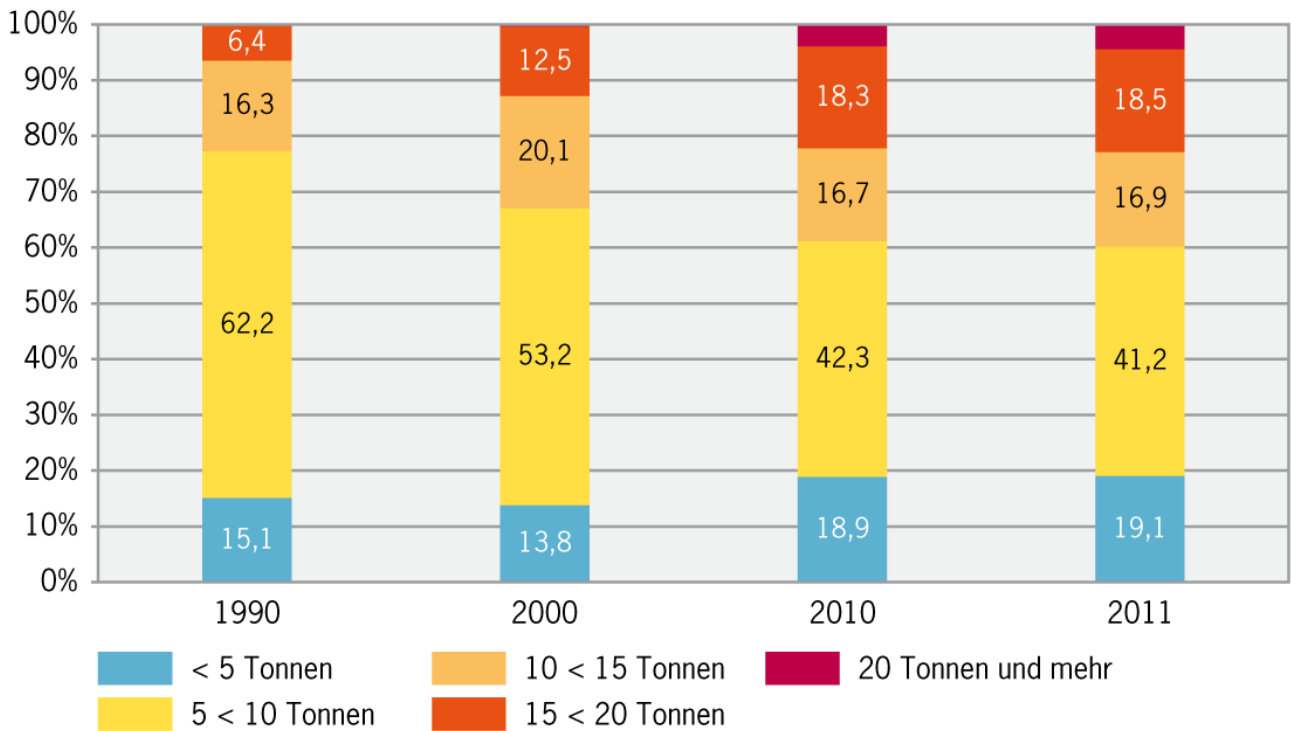


**Lastwagen nach Nutzlast**



Quellen: Bundesamt für Statistik, Bundesamt für Strassen

© BFS

Diagrammtyp

Untertyp

Anzahl Datenreihen

Rubrikenachse (x)

Grössenachse (y)

Maximum

Minimum

Hauptintervall

Das Diagramm zeigt die Entwicklung in gleichbleibenden Abständen.  richtig - falsch

Das Diagramm stellt fünf LKW-Kategorien dar.  richtig - falsch

In allen Jahren gab es gleich viele Lastwagen.  richtig - falsch


Lastwagen mit mehr als 20 Tonnen gibt es erst seit 2010.  richtig - falsch

Welche Kategorie (Datenreihe) hat kontinuierlich zugenommen ?

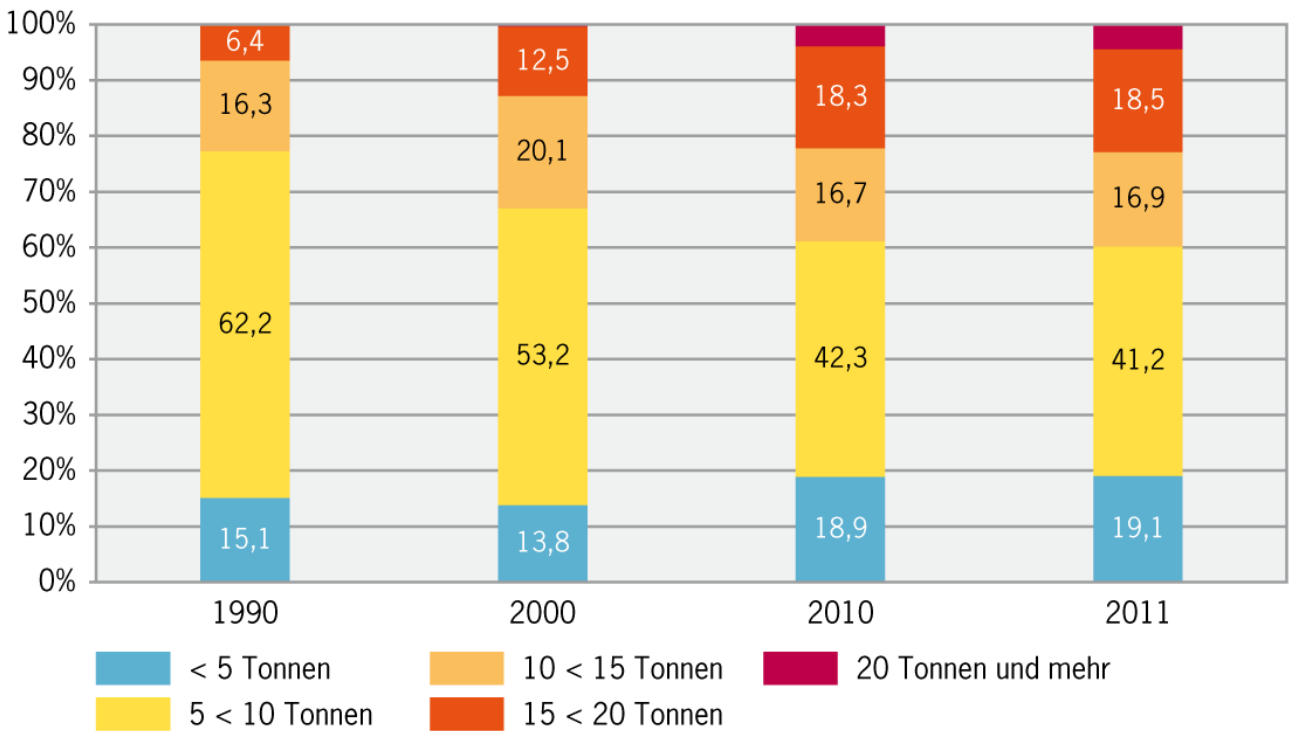
Welche Kategorie (Datenreihe) hat kontinuierlich abgenommen ?

Wie viele Lastwagen hatten 2000 unter 15 Tonnen ?

Wie viele Lastwagen hatten 2010 mindestens 10 Tonnen ?



**Lastwagen nach Nutzlast**



Quellen: Bundesamt für Statistik, Bundesamt für Strassen

© BFS

Diagrammtyp	<b>Säulen</b>
Untertyp	<b>prozentual</b>
Anzahl Datenreihen	<b>5</b>
Rubrikenachse (x)	<b>Jahre</b>

Grössenachse (y)	<b>Anteile in %</b>
Maximum	<b>100%</b>
Minimum	<b>0%</b>
Hauptintervall	<b>10%</b>

Das Diagramm zeigt die Entwicklung in gleichbleibenden Abständen.

richtig - falsch  **F**

Das Diagramm stellt fünf LKW-Kategorien dar.

richtig - falsch  **R**

In allen Jahren gab es gleich viele Lastwagen.

richtig - falsch  **F**

Lastwagen mit mehr als 20 Tonnen gibt es erst seit 2010.

richtig - falsch  **F**

Welche Kategorie (Datenreihe) hat kontinuierlich zugenommen ?

**15 < 20 Tonnen**

Welche Kategorie (Datenreihe) hat kontinuierlich abgenommen ?

**5 < 10 Tonnen**

Wie viele Lastwagen hatten 2000 unter 15 Tonnen ?

**87,1 %**

Wie viele Lastwagen hatten 2010 mindestens 10 Tonnen ?

**38,8 %**

